



Dear Parents,

We are in the midst of a global pandemic. Schools are prominent social institutions and if we have to make certain changes in the educational process during these times we will do so.

So let's shift gear from the school being the hub of learning to school home learning.

We at M.S. School is taking an initiative in this regard and will be sharing worksheets, certain activities to be done and their observations being recorded and some reading comprehension.

We shall also be sharing certain links for the students to follow.

The students may use the notebooks that were being used in the previous session to write down the answers.

So parents, let's collaborate and utilise this time to continue with the process of learning.

સુજ્ઞ વાલીશ્રી,

આજે આપણે એક વૈશ્વિક મહામારીમાંથી પસાર થઈ રહ્યા છીએ. શાળાઓ એક મુખ્ય સામાજિક સંસ્થા છે અને આ સમયમાં આપણે આપણી શૈક્ષણિક પ્રણાલીમાં પરિવર્તન લાવવાનું હોય તો આપણે તે ચોક્કસપણે કરીશું.

તો આપણે સૌ સાથે મળીને આપણી આ કેન્દ્રબિંદુ સમાન શાળાનો ઘર સુધીનો અભ્યાસ શરુ કરીએ.

M.S.સ્કુલે આ પરિસ્થિતિમાં ઘરેથી અભ્યાસ કરાવવાની પહેલ શરુ કરી છે અને તેમાં પ્રયત્નશીલ થઈને વર્કશીટ, વાંચન, ચોક્કસ પ્રવૃત્તિઓ કરાવશે અને તેનું નિરીક્ષણ પણ નોંધવામાં આવશે. આપણે બધા માટે કેટલીક ચોક્કસ Links પણ વિદ્યાર્થીઓને અનુસરવા આપીશું.

જવાબ લખવા માટે વિદ્યાર્થીઓ અગાઉના સત્રમાં વપરાયેલી નોટબુક્સનો ઉપયોગ કરી શકશે.

તો વાલીશ્રીઓ, આ સર્જનાત્મક પ્રવૃત્તિમાં ચાલો આપણે સૌ સહયોગ કરીએ અને આ સમયમાં અભ્યાસની પ્રવૃત્તિ સતત ચાલતી રહે તે માટે સહયોગી બનીએ.

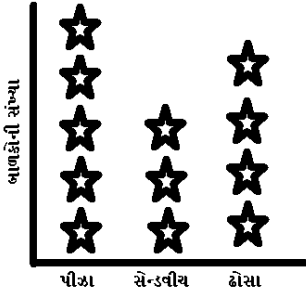
## પ્ર- 1. સાચો વિકલ્પ શોધીને લખો.

1. કોઈ પણ એક નિશ્ચિત બિંદુથી સમાન અંતરે આવેલા તમામ બિંદુઓના સમૂહ ને \_\_\_\_\_ કહે છે.

- a) વર્તુળ                      b) ત્રિકોણ                      c) ચોરસ                      d) લંબચોરસ
2. દરેક વર્તુળને કેટલા કેન્દ્ર હોય છે ?                      a) 0                      b) 1                      c) 2                      d) 3
3. અડધા ભાગને અંકમાં \_\_\_\_\_ રીતે લખાય.                      a)  $\frac{2}{4}$                       b)  $\frac{1}{2}$                       c)  $\frac{1}{2}$                       d)  $\frac{2}{3}$
4.  $120 \times 12 =$  \_\_\_\_\_                      a) 12                      b) 120                      c) 100                      d) 10
5. 1 મીટર = \_\_\_\_\_ સેમી                      a) 1000                      b) 1                      c) 10                      d) 100

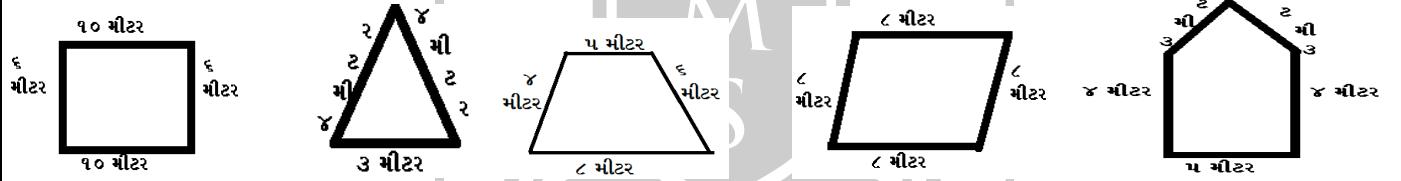
પ્ર- 2. નીચે બાજકોની પસંદગીના ભોજન નો ચાર્ટ આપેલ છે. તેના ઉપરથી માગ્યા પ્રમાણે જવાબ લખો.

★ = ૫ બાજકની સંખ્યાગણવી.

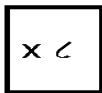


1. ઢોસા ભાવતા બાજકોની સંખ્યા?
2. સૌથી ઓછા બાજકોને શું ભાવે છે ?
3. સૌથી વધારે બાજકોને શું ભાવે છે ?
4. પીઝા ભાવતા હોય તેવા બાજકોની સંખ્યા ?

પ્ર- 3. ખેતરોની હદની લંબાઈનું માપ શોધો.

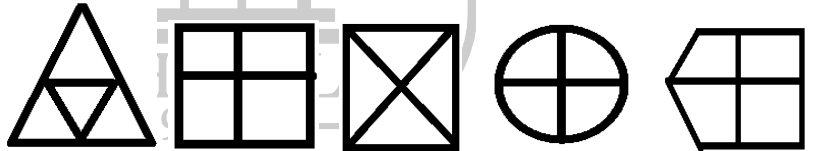


પ્ર- 4. જોડકા જોડો.



- |    |     |
|----|-----|
| ૪  | ૮૦  |
| ૧૦ | ૩૨  |
| ૧૨ | ૧૦૪ |
| ૧૫ | ૮૬  |
| ૧૩ | ૧૨૦ |

પ્ર- 5. નીચેની આકૃતિ  $\frac{2}{4}$  ભાગમાં પેન્સિલથી લીટી કરો.



પ્ર- 6. ગુણાકાર કરો.

- |        |        |        |       |        |
|--------|--------|--------|-------|--------|
| 1) ૫૨  | 2) ૨૦  | 3) ૪૫  | 4) ૧૪ | 5) ૮૬  |
| x ૩    | x ૪    | x ૩    | x ૭   | x ૭    |
| _____  | _____  | _____  | _____ | _____  |
| 6) ૧૧૪ | 7) ૧૦૫ | 8) ૪૧૩ | 9) ૬૧ | 10) ૨૮ |
| x ૮    | x ૪    | x ૩    | x ૫૩  | x ૩૪   |
| _____  | _____  | _____  | _____ | _____  |



## પ્રશ્ન - 1 નીચે આપેલા વિકલ્પો માંથી સાચો વિકલ્પ પસંદ કરો.

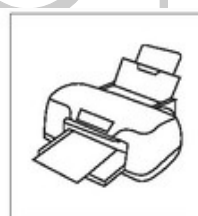
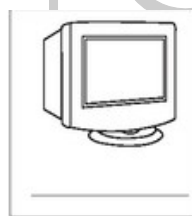
1. હાથ કે પગ વડે આપણે જે કામ કરીએ તેને \_\_\_\_\_ કહે છે. ( શારીરિક શ્રમ / માનસિક શ્રમ )
2. બુદ્ધિ દ્વારા કરવામાં આવતા કાર્યને \_\_\_\_\_ કહે છે. ( શારીરિક શ્રમ / માનસિક શ્રમ )
3. \_\_\_\_\_ એ યંત્ર છે. ( પુસ્તક / કમ્પ્યુટર )
4. દાખલા ગણવા તે \_\_\_\_\_ છે. ( માનસિક શ્રમ / શારીરિક શ્રમ )
5. કીબોર્ડ અને માઉસ \_\_\_\_\_ માટેના સાધનો છે. ( ઈનપુટ / આઉટપુટ )
6. \_\_\_\_\_ ને કમ્પ્યુટરનું મગજ કહે છે. ( CPU / માઉસ )
7. \_\_\_\_\_ પર બે કે ત્રણ બટન આવેલા છે. ( મોનીટર / માઉસ )
8. \_\_\_\_\_ પર 100 કરતા વધારે કી આવેલી હોય છે. ( કીબોર્ડ / માઉસ )
9. કાગળ પર છાપવા માટે \_\_\_\_\_ નો ઉપયોગ થાય છે. ( મોનીટર / પ્રિન્ટર )
10. CPU એટલે \_\_\_\_\_ ( સેન્ટ્રલ પ્રોસેસિંગ યુનિટ / કોમન પ્રોસેસિંગ યુનિટ )
11. તમે સ્પર્શી શકો તેવા કમ્પ્યુટરના ભાગ ને \_\_\_\_\_ કહે છે. ( હાર્ડવેર / સોફ્ટવેર )
12. ડેસ્કટોપ પર જોવા મળતા નાના ચિત્રોને \_\_\_\_\_ કહે છે. ( ગ્રાફિક્સ / આઈકન )
13. ટાસ્કબાર પર તમે \_\_\_\_\_ બટન જોઈ શકો છો. ( Close / Start )
14. સ્ક્રીન પરના નાનકડા એરોને \_\_\_\_\_ કહે છે. ( માઉસ / માઉસ પોઈન્ટર )
15. ટુલ્સ કે કમાન્ડની યાદીને \_\_\_\_\_ કહે છે. ( મેનુ / સબમેનુ )

## પ્રશ્ન - 2 કૌંસમાં આપેલા શબ્દોની મદદથી નામ લખો.

( હાર્ડવેર , કલોક , સોફ્ટવેર , કીબોર્ડ , મોનીટર , સ્ટાર્ટ બટન , ઈનપુટ , પ્રિન્ટર , આઉટપુટ , માઉસ )

1. કમ્પ્યુટરના બે મુખ્ય કાર્યો \_\_\_\_\_
2. ઈનપુટ માટેના સાધનો \_\_\_\_\_
3. વાયર દ્વારા CPU બોક્સ સાથે જોડાયેલા બે સાધનો \_\_\_\_\_
4. કમ્પ્યુટર ને ચલાવવા માટે જરૂરી બે વસ્તુઓ \_\_\_\_\_
5. ટાસ્કબાર પર દેખાતી બે વસ્તુઓ \_\_\_\_\_

## પ્રશ્ન - 3 કમ્પ્યુટરના વિવિધ ભાગોના નામ લખો.



## પ્રશ્ન - 4 જોડકા જોડો.

- |                               |          |               |                          |
|-------------------------------|----------|---------------|--------------------------|
| (1) અ                         | બ        | (2) અ         | બ                        |
| 1. આઉટપુટ દર્શાવે છે.         | કીબોર્ડ  | 1. હાર્ડવેર   | વિન્ડોઝની મુખ્ય સ્ક્રીન  |
| 2. આઉટપુટ છાપે છે.            | CPU      | 2. સોફ્ટવેર   | માઉસની ક્રિયા            |
| 3. નિદર્શન માટેનું સાધન       | પ્રિન્ટર | 3. વિન્ડોઝ    | કમ્પ્યુટરના ભાગ          |
| 4. લેટર કી                    | મોનીટર   | 4. ડેસ્કટોપ   | ઓપરેટીંગ સિસ્ટમ          |
| 5. ઈનપુટ પર પ્રક્રિયા કરે છે. | માઉસ     | 5. રાઈટ-ક્લિક | કમ્પ્યુટરને આપેલી સૂચનાઓ |



### Q- 1. MCQ.

1. What is MS. Seema Shah ? a) a doctor b) a pilot c) a teacher d) a nurse
2. What is Mr. Jaimin Parekh ? a) a teacher b) a barber c) a carpenter d) a postman
3. Gittu is a \_\_\_\_\_. a) rabbit b) goat c) crow d) dog
4. Who wants to play chess ? a) Kuku b) Gittu c) Monu d) Rocky
5. Kuku is \_\_\_\_\_ a song. a) singing b) dancing c) flying d) reading

### Q- 2. True or False.

1. Ms. Seema Shah sews clothes.
2. Miss Crane was hungry.
3. Kuku is batting.
4. Kuku is writing a book.
5. Rocky is busy.

### Q- 3. Rearrange the jumble words to make meaningful sentence.

1. playing is Rahul. \_\_\_\_\_
2. TV is Dimpu watching. \_\_\_\_\_
3. name Ronak is his. \_\_\_\_\_
4. you what are doing ? \_\_\_\_\_
5. who a song singing is ? \_\_\_\_\_

### Q- 4. opposites words.

1. In x \_\_\_\_\_
2. Hot x \_\_\_\_\_
3. tall x \_\_\_\_\_
4. big x \_\_\_\_\_
5. near x \_\_\_\_\_

### Q- 5. Fill in the blanks using the given action words with 'ing'.

1. I am \_\_\_\_\_ (run)
2. He is \_\_\_\_\_ on the footpath. (walk)
3. I am \_\_\_\_\_ an orange. (eat)
4. you are \_\_\_\_\_ on my bag. (sit)
5. The cat is \_\_\_\_\_ milk. (drink)

### Q- 6. નીચેના ક્રિયાપદોના ગુજરાતીમાં અર્થ લખો.

1. to wish = \_\_\_\_\_
2. to come = \_\_\_\_\_
3. to met = \_\_\_\_\_
4. to end = \_\_\_\_\_
5. to open = \_\_\_\_\_

### Q- 7. સ્પેલિંગ લખો.

1. ડોક્ટર = \_\_\_\_\_
2. ગાંધી (વાણંદ) = \_\_\_\_\_
3. નર્સ = \_\_\_\_\_
4. દરજી = \_\_\_\_\_
5. મોચી = \_\_\_\_\_

### Q- 8. Fill in the blankes using the 'is' , 'are' or 'am'.

1. Good morning , I \_\_\_\_\_ Sumita.
2. Mohan \_\_\_\_\_ my friend.
3. The cat and the dog \_\_\_\_\_ in the park.
4. I \_\_\_\_\_ in class 4.
5. my father \_\_\_\_\_ a doctor.



## પ્ર- 1. સાચો વિકલ્પ શોધીને લખો.

1. પાકિસ્તાનની સરહદે ગુજરાતનો કયો જિલ્લો આવેલો છે ? a) રાજકોટ b) કચ્છ c) ભાવનગર d) અમદાવાદ
2. નદીમાં સૌથી ઓછું પાણી કઈ ઋતુમાં જોવા મળે છે ? a) વસંતઋતુ b) શિયાળામાં c) ઉનાળામાં d) ચોમાસામાં
3. ખેતીનો પ્રથમ તબક્કો કયો છે ? a) ખેડ b) વાવણી c) પિયત d) કાપણી
4. વૈશાલીના ઘરના લોકો સવારે કેટલા વાગે ઉઠે છે ? a) ૪:૦૦ વાગે b) ૫:૦૦ વાગે c) ૬:૦૦ વાગે d) ૭:૦૦ વાગે
5. કોચલ પોતાના ઈંડા ક્યાં મુકે છે ? a) ઝાડની બખોલમાં b) ઘરના બખોલમાં c) કાગળના માળામાં d) દેવચકલીના માળામાં
6. તેજલના મામાનું ઘર કેટલા રૂમનું હતું ? a) ૪ b) ૩ c) ૨ d) ૧
7. પાણીનો મુખ્ય સ્ત્રોત કયો છે ? a) નદી b) વરસાદ c) દરિયો d) તળાવ
8. વાલીઓ મધ્યાહન ભોજનમાં કેવી રીતે મદદ કરે છે ? a) અનાજ આપીને b) તિથીભોજન આપીને c) શાકભાજી આપીને d) પૈસા આપીને
9. છાત્રાલયમાં બાળકો ક્યાં બેસીને જમે છે ? a) રસોડામાં b) અગાસીમાં c) ભોજનાલયમાં d) પોતાના રૂમમાં
10. રોજની જેમ મમતાના ઘરમાં શેના માટે ઝઘડો શરુ થયો હતો ? a) ટી.વી જોવા માટે b) જમવાનું બનાવા માટે c) ફરવા જવા માટે d) રમત રમવા માટે
11. રાણીની વાવ ક્યાં આવેલી છે ? a) અમદાવાદમાં b) ધોળકામાં c) અડાલજમાં d) પાટણમાં
12. અબુધાબી ક્યાં દેશની રાજધાની છે ? a) કુવૈત b) યુ.એ.ઈ. c) ઈરાન d) ઈરાક

## પ્ર- 2. નીચેના વાક્યોમાં ખરા ખોટાની નિશાની કરો.

1. ઝૂપડપટ્ટીમાં પાણી માટે કાયમ ઝઘડા થાય છે.
2. ઈંડા પાણી આરોગ્ય માટે હિતાવહ છે.
3. મધ્યાહન ભોજનમાં જમવા માટે બાળકને એક કાયમી જગ્યા આપવામાં આવે છે.
4. છાત્રાલયમાં બધા જ બાળકોને સમાન રીતે રાખવામાં આવે છે.
5. મમતાના મમ્મી અને કાકી મિત્રોની જેમ રહે છે.

## પ્ર- 3. જોડકા જોડો.

- | અ              | બ                 | જવાબ  |
|----------------|-------------------|-------|
| 1. દશેરા       | a) આસો વદ અમાસ    | _____ |
| 2. ઈંદ         | b) 25 મી ડીસેમ્બર | _____ |
| 3. લોળી ધૂળેટી | c) સેવૈયા         | _____ |
| 4. દિવાળી      | d) રંગો - પિચકારી | _____ |
| 5. નાતાલ       | e) ફાફડા જલેબી    | _____ |

## પ્ર- 4. મસાલાના ઉપયોગો લખો.

1. અજમો \_\_\_\_\_
2. હિંગ \_\_\_\_\_
3. આદુ \_\_\_\_\_
4. ઈલાઈચી \_\_\_\_\_
5. લસણ \_\_\_\_\_



## પ્ર- 1. સાચો વિકલ્પ શોધીને લખો.

1. સૌથી જુનું નૃત્ય \_\_\_\_\_ મનાય છે. a) ભીલ b) ગરબો c) ટીપ્પણી d) ધૂમર
2. \_\_\_\_\_ જીલ્લાનું રૂમાલ નૃત્ય પ્રસિદ્ધ છે. a) પંચમહાલ b) બનાસકાંઠા c) મહેસાણા d) ડાંગ
3. અસમનું \_\_\_\_\_ નૃત્ય પ્રસિદ્ધ છે. a) ધૂમર b) બિહુ c) ગરબો d) ભીલ
4. ધૂમર નૃત્ય \_\_\_\_\_ રાજ્યનું છે. a) રાજસ્થાન b) કેરળ c) મહારાષ્ટ્ર d) ગુજરાત
5. ભરત નાટ્યમ \_\_\_\_\_ રાજ્યનું પ્રસિદ્ધ નૃત્ય છે. a) રાજસ્થાન b) કેરળ c) આંધ્રપ્રદેશ d) તમીલનાડુ
6. ગુજરાતી ભાષાનું પ્રથમ નાટક \_\_\_\_\_ છે. a) લક્ષ્મી b) મારી હકીકત c) કરણ ઘેલો d) રાજા હરીશચંદ્ર
7. ગુજરાતી ભાષાની પ્રથમ નવલ \_\_\_\_\_ છે. a) માનવીની ભવાઈ b) વસંત વિલાસ c) સરસ્વતી ચંદ્ર d) મારી હકીકત
8. ' સાત પગલા આકાશમાં ' નવલકથા \_\_\_\_\_ એ લખી હતી. a) ઈશ્વર પેટલીકર b) કુંદનિકા કાપડિયા c) પન્નાલાલ પટેલ d) નંદ શંકર મહેતા
9. ' અગ્નિકુંડમાં ઉગેલું ગુલાબ ' એ \_\_\_\_\_ ની રચના છે. a) નારાયણ દેસાઈ b) રમણભાઈ નીલકંઠ c) નંદશંકર મહેતા d) પન્નાલાલ પટેલ
10. ' સરસ્વતી ચંદ્ર ' નવલકથા \_\_\_\_\_ એ લખી હતી. a) પન્ના લાલ પટેલ b) ગોવર્ધન રામ ત્રિપાઠી c) નર્મદ d) પ્રાણલાલ એદલજી ડોસા
11. પુષ્પ = ફૂલ : કમળ = \_\_\_\_\_ a) વાયુ b) આગ c) ફુલ d) પંકજ
12. જમીન = ભૂમિ : આકાશ = \_\_\_\_\_ a) આગ b) નભ c) અનીલ d) પંકજ
13. જળ = પાણી : બક્ષિસ = \_\_\_\_\_ a) બેગ b) પેટી c) ભેટ d) સન્માન
14. વધારો X ઘટાડો : માન X \_\_\_\_\_ a) અપવાદ b) અપમાન c) અભિમાન d) સન્માન
15. સંતોષ X અસંતોષ : વિનય X \_\_\_\_\_ a) લોભી b) વિનયી c) અવિનય d) આપેલ તમામ
16. સુરત X બદસુરત : સદાચાર X \_\_\_\_\_ a) દુરાચાર b) સારું c) સાદું d) ઓછું
17. ' પૃથ્વી સૂર્યની આસપાસ ફરે છે ' તે સૌ પ્રથમ જણાવનાર વૈજ્ઞાનિક \_\_\_\_\_ હતા. a) કેપ્લર b) કોપરનિકસ c) કાર્લ બેનજ d) રોકેટ
18. ગુરુત્વાકર્ષણના નિયમની શોધ \_\_\_\_\_ એ કરી હતી. a) ચાર્લ્સ ડાર્વિન b) જ્હોન ડનલોપ c) આર્થર એક ન્યુટન d) માર્કલ ફેરાડે
19. વીજળીના ગોળાની શોધ \_\_\_\_\_ એ કરી હતી. a) થોમસ આલ્વા એડીસન b) કાર્લ બેનજ c) માર્કલ ફેરાડે d) જ્હોન બ્યૂટ
20. એલેક્ટ્રોન ગ્રેહામ બેલે \_\_\_\_\_ ની શોધ કરી હતી. a) ગ્રામોફોન b) વિદ્યુત મોટર c) ડાયનેમાઈટ d) ટેલીફોન
21. ધરતીકંપ માપવા માટેનું સાધન \_\_\_\_\_ છે. a) કેસ્કોગ્રાફ b) કાર્ડિયોગ્રાફ c) માર્કોસ્કોપ d) સીસ્મોગ્રાફ
22. દુરના ગ્રહોનું અવલોકન કરવા માટે \_\_\_\_\_ નો ઉપયોગ થાય છે. a) ટેલીસ્કોપ b) સ્ટેથોસ્કોપ c) માર્કોસ્કોપ d) ડાઈનેમો
23. હૃદયના ધબકારા માપવા માટે \_\_\_\_\_ નો ઉપયોગ થાય છે. a) માર્કોસ્કોપ b) ટેલીસ્કોપ c) સ્ટેથોસ્કોપ d) ડાઈનેમો
24. પ્રવાહીની ઘનતા માપવા માટે \_\_\_\_\_ નો ઉપયોગ થાય છે. a) વોલ્ટામીટર b) હાયડ્રોમીટર c) હાઈગ્રોમીટર d) માર્કોસ્કોપ
25. માનવીના કોશ જોવા \_\_\_\_\_ નો ઉપયોગ થાય છે. a) માર્કોસ્કોપ b) ટેલીસ્કોપ c) ડાઈનેમો d) સ્ટેથોસ્કોપ

Worksheet -1

Date : 25-04-2020

Subject : G.K.

Standard : 4th



M.S. SCHOOL

KG TO 12 (English / Gujarati Medium)

5 - Krishna Nagar, Jamnagar - 6. 0288-2566 916 | 9377 566 916

26. 7 , 11 , 13 , 17 , 19 , ( ? )

a) 20

b) 21

c) 22

d) 23

27. 1 , 3 , 5 , 7 , 9 , ( ? )

a) 10

b) 11

c) 12

d) 13

28. 3 , 6 , ( ? ) , 12 , 15 , 18

a) 7

b) 8

c) 9

d) 10

29. 20 , 17 , 14 , ( ? ) , 8

a) 12

b) 10

c) 11

d) 13

30. 2 , 4 , 12 , 48 , ( ? )

a) 64

b) 96

c) 144

d) 240

પ્ર- 2. ખરા ખોટા લખો.

1. સીદી લોકો ધમાલ નૃત્ય કરે છે.

2. ગુજરાતી ભાષાની પ્રથમ આત્મકથા ' મારી હકીકત ' છે.

3. હડકવાની રસી એડવર્ડ જેનરે શોધી હતી.

4. ટેલિવિઝનની શોધ વિલિયમ શોકલી એ કરી હતી.

5. દુધની ઘનતા માપવા માટેનું સાધન લેક્ટોમીટર છે.

પ્ર- 3. જોડકા જોડો.

અ

બ

જવાબ

1. કથકલી

a) આંધ્રપ્રદેશ

2. કથક

b) અસમ

3. કુચીપુડી

c) કેરળ

4. ભારત નાટ્યમ

d) ઉત્તર પ્રદેશ

5. બિહુ

e) તમિલનાડુ

પ્ર- 4. સમાનર્થી શબ્દો લખો

1. અગ્નિ = \_\_\_\_\_

2. પુષ્પ = \_\_\_\_\_

3. જમીન = \_\_\_\_\_

4. સિત્ર = \_\_\_\_\_

5. બાંધવ = \_\_\_\_\_

પ્ર- 5. વિરુદ્ધાર્થી શબ્દો લખો.

1. વધારો X \_\_\_\_\_

2. કોમળ X \_\_\_\_\_

3. દિવસ X \_\_\_\_\_

4. સજ્જન X \_\_\_\_\_

5. ભય X \_\_\_\_\_



## પ્ર- 1. સાચો વિકલ્પ શોધીને લખો.

1. પિનકોડ કેટલા અંકોનો હોય છે? a) છ b) સાત c) આઠ
2. મીંદડીની આંખ કેવી છે? a) માંજરી b) કાળી c) ભૂરી
3. મૂરખ માણસે રેતીમાં શું દટાવ્યું હતું? a) સોનાની વીંટી b) હીરાની વીંટી c) ચાંદીની વીંટી
4. ફકીર ક્યાંથી પસાર થતા હતા? a) કેડીમાંથી b) વનવગડામાંથી c) ગામમાંથી
5. વૃક્ષો હવાને શુદ્ધ રાખે છે. આવું કોણ કહે છે? a) તારક b) નરેન્દ્ર c) તારકના દાદા
6. છોડ કેવો હતો? a) નાનો b) કુમળો c) લીલોછમ
7. બાળક બચુડાને શું લાવવા કહે છે? a) વીંટી b) કોટ c) સીટી
8. હરી અને અરજણ ક્યા ગામના રહેવાસી હતા? a) ધારી b) કાંગસા c) સુખપુર
9. છઠ્ઠો મૂરખનો સરદાર કોણ હતું? a) બિરબલ b) મંત્રી c) અકબર
10. ' હું તો પૂછું' કવિતાના કવિનું નામ શું છે? a) કૃષ્ણ દવે b) ડો. પ્રકાશ દવે c) સુંદરમ

## પ્ર- 2. ખાલી જગ્યા પૂરો..

1. રેશમા \_\_\_\_\_ ગામમાં રહે છે.
2. \_\_\_\_\_ ના પેટે દુધની ધોળી મીઠી ધાર ભરેલી છે.
3. નરેન્દ્ર ના પિતાનું નામ \_\_\_\_\_ છે.
4. કોઈની દાનત મેલી હશે તો બાળકો \_\_\_\_\_ ઉગામવાનું કહે છે.
5. હરી અને અરજણ પાસે \_\_\_\_\_ સિવાય બીજું કોઈ લથિયાર ન હતું.

## પ્ર- 3. નીચેના વાક્યોમાં ખરા ખોટાની નિશાની કરો.

1. અશોકભાઈ સ્વભાવે ખુબ જ કડક હતા. 2. ઘોડે સવારનો ઘોડો ઘણો મજબુત હતો.
3. નરેન્દ્રના ઘરે સંતો મહંતો પધારવાના હતા. 4. હરિ અને અરજણ ભારે સાહસી હતા.

## પ્ર- 4. સમાનાર્થી શબ્દો લખો.

1. વૃક્ષ - \_\_\_\_\_ 2. હવા - \_\_\_\_\_ 3. સંગત - \_\_\_\_\_
4. સાચું - \_\_\_\_\_ 5. આંખ - \_\_\_\_\_ 6. જંગલ - \_\_\_\_\_

## પ્ર- 5. વિરુદ્ધાર્થી શબ્દો લખો.

1. શાંતિ x \_\_\_\_\_ 2. ધ્યાન x \_\_\_\_\_ 3. રાજ x \_\_\_\_\_
4. આગળ x \_\_\_\_\_ 5. હોશિયાર x \_\_\_\_\_ 6. હસવું x \_\_\_\_\_

## પ્ર- 6. નીચેના શબ્દોની સાચી જોડણી લખો.

1. મિંદડી - \_\_\_\_\_ 2. ચુંદળી - \_\_\_\_\_ 3. વીસતાર - \_\_\_\_\_ 4. શીકાર - \_\_\_\_\_

## પ્ર- 7. શબ્દકોષના ક્રમમાં ગોઠવો.

1. આંખ, દૂધ, નવલખો, રંગ, આભ, વીંછી = \_\_\_\_\_ 2. શિકાર, સિંહ, શિયાળો, સૂર્ય, સાબરું = \_\_\_\_\_

## પ્ર- 8. નીચેના શબ્દસમૂહ માટે એક શબ્દ લખો.

1. દસ વર્ષનો ગાળો = \_\_\_\_\_ 2. ભાષાને લગતી = \_\_\_\_\_
3. પ્રેમ આપનાર = \_\_\_\_\_ 4. પાન વિનાનો = \_\_\_\_\_

## પ્ર- 9. નીચેના રૂઢીપ્રયોગોનો અર્થ આપી વાક્ય પ્રયોગ કરો.

1. સાબદા થઈ જવું. - \_\_\_\_\_ 2. રજા લેવી - \_\_\_\_\_ 3. દંડો ઉગામવો - \_\_\_\_\_





### प्र- 1. निचे दिए गए प्रश्नों के सही उत्तर पर (✓) का निशान लगाइए।

1. हाथी का घमंड किसने चूर - चूर कर दिया ?  
a) चींटी                      b) भालू                      c) शेर
2. लड़की को रोटी में क्या मिला ?  
a) सोने का सिक्का      b) चाँदी का सिक्का      c) पत्थर
3. चिट्ठी किसका अखबार है ?  
a) संसार का                      b) घर का                      c) मन का
4. वल्लभ आगे चलकर किस नाम से मशहूर हुआ ?  
a) राष्ट्रपिता                      b) शांतिदूत                      c) लौहपुरुष
5. राजकुमारी रूपा को किसका शौक था ?  
a) चिड़िया पालने का                      b) खेलने कूदने का                      c) आजाद रहने का

### प्र- 2. खाली जगह भरिए।

1. वल्लभ के \_\_\_\_\_ में चोट लगने के कारण खून निकलने लगा।
2. राजाने \_\_\_\_\_ को जेल में बंद करवा दिया।
3. मैना और तोतेने \_\_\_\_\_ की कमी से दम तोड़ दिया।
4. राजाने डामन को \_\_\_\_\_ की सजा सुनाई।
5. वल्लभ के दोस्तों ने साडी \_\_\_\_\_ टीचर को बताई।

### प्र- 3. शब्द अर्थ लिखिए।

1. दर्द -
2. प्रसन्न -
3. अपमान -
4. संदेश -
5. धन्यवाद -
6. सेहत -

### प्र 4. निचे लिखे मुहावरों के अर्थ लिखकर वाक्य में प्रयोग कीजिए।

1. आँखों का तारा होना - \_\_\_\_\_
2. फुला न समाना - \_\_\_\_\_

### प्र- 5. काव्य पंक्ति पूर्ण कीजिए!

हे स्वर्ग \_\_\_\_\_  
 \_\_\_\_\_  
 \_\_\_\_\_  
 \_\_\_\_\_ है गगन हमारा।

### प्र - 6. दिए गए वाक्यों में सही (✓) या गलत (x) का निशान लगाइए।

1. लोमड़ी हाथी को देखकर दार गई।
2. अंत में राजा ने पिथियस को फाँसी दी।
3. एक दिन वल्लभ दोस्तों के साथ बाजार जा रहा था।
4. नौकर पक्षियों को पकड़कर लेट थे।