

Worksheet -2

Date :

Subject : Sanskrit

Standard : 7-A



M.S. SCHOOL

KG TO 12 (English / Gujarati Medium)

5 - Krishna Nagar, Jamnagar - 6. 0288-2566 916 | 9377 566 916

પ્ર-1. આપેલા વાક્યોને બહુવચનમાં ફેરવો.

1. બાલકઃ ચટકા પશ્યતિ | _____
2. છાત્ર સત્યં વદતિ | _____
3. વૃક્ષઃ ફલં દદાતિ | _____
4. ઉષ્ટ્ર ચલતિ | _____
5. છાત્રઃ વાર્તા શ્રુણોતી | _____
6. વૃક્ષઃ તાપં હરતી | _____

પ્ર-2. નીચેના વાક્યોનું સંસ્કૃત કરો.

1. હું ઠંડુ પાણી પીવું છું. _____
2. મહેશ કમ્પ્યુટર ચલાવે છે. _____
3. લોકો ટીવી જુએ છે. _____
4. વિમાન આકાશમાર્ગે ચાલે છે. _____

પ્ર-3. ઉદાહરણ મુજબ વાક્ય બનાવો. { વિરાજઃ કૃશઃ કિન્તુ શક્તિમાન અસ્તિ | (શક્તિમાન) }

1. અમિતા શિશુઃ _____ (નિર્ભયા)
2. રુગ્ણાલયઃ લઘુઃ _____ (સ્વચ્છ)
3. નીમવૃક્ષઃ તીલ્ક _____ (ગુણકારી)
4. પર્વત દુરે _____ (રમણીયઃ)
5. કોકિલઃ કૃષ્ણઃ _____ (મધુભાષી)

પ્ર-4. નીચેના શબ્દો ના ક્રિયાપદમાં ફેરફાર કરો. (નમ - નમન્તિ)

1. યાદ - _____
2. ગમ (ગચ્છ) - _____
3. લિખ - _____
4. ધાવ - _____
5. ક્રીડ - _____
6. દૃશ (પશ્ય) - _____
7. પત - _____
8. પા (પિબ) - _____
9. વદ - _____
10. પઠ - _____

પ્ર-5. જોડકા જોડો.

1. નર્મદામાતા નારિકેલ
2. સૂર્યતનયા પુણ્યસલિલા
3. સામ્રમત્યા વહતિવિપુલા
4. ગુર્જરદેશસ્ય ઇતિહાસો વિશાલઃ
5. ત્રિનેત્રધારી મહાપ્રભાતઃ

પ્ર-6. સાચો ગુજરાતી અર્થ લખો.

1. મોદક _____
2. વ્યંજનમ - _____
3. તક્રમ - _____
4. ઓદનમ - _____
5. લવણમ - _____

પ્ર-7. ગુજરાતીમાં અનુવાદ કરો.

1. પૂર્વદિશાયાં રક્ષતિ કાલિકા વસતિ કૃષ્ણઃ પશ્ચિમદિશાયામ | ઉત્તરદિશાયાં રક્ષતિ કુન્તેસ્વરસ્ય તૂ દક્ષિણધામ ||

2. પુણ્યસલિલા નર્મદામાતા સૂર્યતનયા વહતી વિપુલા | સામ્રમત્યાઃ ઇતિહાસો વિશાલઃ ગુર્જરદેશસ્ય મહાપ્રભાતઃ ||

પ્ર-8. નીચેની સુક્તિઓનો ભાવાર્થ લખો.

1. જ્ઞાનં ભારઃ ક્રિયાં વિના |
2. શરીરમાધું ધર્મસાધનમ |



Q- 1. Do as Directed.

1. Synonyms

1. admit - _____ 2. arise - _____ 3. away - _____ 4. overseas - _____

2. Antonyms

1. accept - _____ 2. deep - _____ 3. beautiful - _____ 4. comedy - _____

3. Write modals choose from the bracket.

1. you _____ take rickshaw to go to office. (can / will)

2. you _____ the umbrella in case it rains. (will / may)

4. Turn the following into passive voice.

1. Ravi has eaten an apple. (past perfect tense)

2. Rita is writing a story. (present continuous)

3. Rita was writing a story. (past perfect)

4. She had completed the work (past perfect)

5. Rita will have learnt the poem by evening (future perfect)

5. Noun Gender.

1. hunter - _____

2. lion - _____

3. author - _____

4. uncle - _____

5. washerman - _____

6. king - _____

6. Direct indirect speech turn the following into indirect speech.

1. Rohan said to me , " When did you arrive ? "

2. Sneha said to Rohan , " Please bring my bag. "

3. Aditya said to mother , " It is raining heavily. "

7. Put the punctuations and capitals in the following.

1. Why is the machine not working

2. diwali is a festival of lights

3. he had gone to shivaji airport

4. yes I want to buy a dress

8. True or false.

1. ' Nod ' એટલે ના પાડવી.

2. The Ganga is a holy river.

3. An ant is a tiny creature.

4. Mosquitoes prepares a trap to kill man.

5. Mosquitoes and flies are our competitors.

9. Fill in the blanks.

1. Opposite of horizontally is _____

2. past tense of ' lose ' _____

3. ' keeping money in the bank ' _____

4. opposite of ' out wards ' is _____

5. The ant's life is very _____

10. write the following notice.

Rimjim Roy lost a pencil box write a notice about.



11. write a paragraph of ' A Farmer '.

12. write down the following spellings.

1. એડવોકેટ - _____ 2. અલરાઈટ - _____ 3. અરાઉન્ડ - _____
4. ડેકબોર્ડ - _____ 5. બુક - _____ 6. ગંગા - _____

Q- 2. explain the advertisement.

NATURE HERBAL SOAP


Net weight when packed : 100 grams

Max . Retail Price : Rs. 20

packed : August 2019

Manufactured by : Nature Industries,
Junagadh , Gujarat

1. what is the weight of the soap ? _____
2. where is Nature Industries loacated ? _____
3. when was this soap packed ? _____
4. How much money has to be paid ? to buy it ? _____
5. What is the name of this soap ? _____





પ્ર- 1. ખાલી જગ્યા પૂરો

1. રાજ્ય સરકારના બધા જ કાર્યો _____ ના નામથી થાય છે ?
2. _____ નદી કેલાસ શિખરના માનસરોવરમાંથી નીકળે છે.
3. વિશ્વનો સૌથી મોટો રણ પ્રદેશ _____ છે.
4. ઈ.સ. 2019 માં ક્રિકેટ વર્લ્ડકપ _____ દેશમાં યોજાયો.
5. પ્રથમ અવકાશયાત્રી _____ દેશના નાગરિક હતા.
6. _____ રાજ્યમાં વિધાન પરિષદ નથી.
7. હરદ્વાર , કાનપુર, વારાણસી , અવાહાબાદ _____ નદીના કિનારે વસેલો શહેર છે.
8. દુનિયાનું સૌથી ઊંચું ગીરીશિખર _____ છે. 9. હોકીનો પ્રથમ વિશ્વકપ _____ દેશે જીત્યો હતો.
10. વિશ્વમાં પ્રથમ વખત _____ દેશે મંગળ ગ્રહ પર ઉપગ્રહ છોડ્યો હતો.

પ્ર- 2. સાચા કે ખોટાની નિશાની કરો.

1. ભારતના ગોવા રાજ્યને પોતાનું અલગ બંધારણ છે.
2. માઉન્ટ આબુનું શિખર અરવલ્લી ગિરિમાળા માં આવેલું છે.
3. વિશ્વનો સૌથી મોટો ટ્રીપકલ્પ અરેબિયા છે.
4. સૌથી વધુ વખત ક્રિકેટ વર્લ્ડકપ ઓસ્ટ્રેલીયા એ જીત્યો હતો.
5. પ્રથમ અવકાશીય પર્યટક જહોનગ્લેન હતા.

પ્ર- 3. જોડકા જોડો .

- | | | |
|----------------|--------------------------|------|
| અ | બ | જવાબ |
| 1. નાઈલ | a) બ્રાઝીલ (દ.અમેરિકા) | |
| 2. સિંધુ | b) ઈજિપ્ત (આફ્રિકા) | |
| 3. એમેઝોન | c) ભારત | |
| 4. બ્રહ્મપુત્ર | d) ભારત - પાકિસ્તાન | |
| 5. ગંગા | e) તિબેટ - ભારત | |

પ્ર- 4. નીચે આપેલા સોર્ટફોર્મ નામનું ફૂલફોર્મ નામ લખો.

1. ISC
2. SAC
3. PRL
4. SHAR
5. VSSC

પ્ર- 5. નીચે આપેલા જળધોધ કઈ નદી અને ક્યાં સ્થળ પર આવેલા છે તે જણાવો.

- | | | |
|-----------------------------|-------|-------|
| જળધોધ | નદી | સ્થળ |
| 1. શિવસમુદ્રમ | _____ | _____ |
| 2. ધૂંવાધાર | _____ | _____ |
| 3. જોગ (ગેર સપ્પા) નો ધોધ | _____ | _____ |
| 4. દૂધસાગર | _____ | _____ |
| 5. કપિલધારા | _____ | _____ |

પ્ર- 6. નીચે આપેલા ચિત્રોના નામ લખો.

- 1.
- 2.
- 3.
- 4.
- 5.

પ્ર- 7. નીચે આપેલા નકશામાં આપેલ વિગતો ભરો.

1. કાવેરી
2. ગોદાવરી
3. નર્મદા
4. યમુના
5. મહાનદી



પ્ર- 1. શબ્દ સમૂહ માટે એક શબ્દ લખો.

- જેનું મુલ્ય ન આંકી શકાય તેવું - _____
- કુમળા પાનની ઝીણી લાલ રેખા - _____
- સ્ત્રીનાં મા- બાપનું ઘર - _____

પ્ર- 2. નીચેના વાક્યમાંથી વિશેષણ શોધી તેનો પ્રકાર જણાવો.

- એથીય મીઠી મોરી માતરે - _____
- માડીના મેઘ બારે માસ રે - _____
- જગથી જુદેરી એની જાત રે - _____

પ્ર- 3. નીચેના વાક્ય ના પ્રકાર જણાવો.

- ગાંધીજી તે ગાંધીજી ! = _____
- મારો અભ્યાસ ચાલુ ર્યો. = _____
- હું ખોટો નથી એમ સિદ્ધ કેમ કરું ? = _____

પ્ર- 4. નીચેના વાક્યમાંથી કર્તા, કર્મ, ક્રિયાપદ શોધો.

- હું રાજકોટ ગયો હતો.
- ગાંધીજી ત્યારે સંસ્કૃત ભણતા.
- શિક્ષક બહુ કડક હતા.

પ્ર- 5. સંજ્ઞા નો પ્રકાર જણાવો.

- સિંહ - _____
- દોસ્તી - _____
- પાણી - _____

પ્ર- 6. રૂઢીપ્રયોગ નો અર્થ લખી વાક્ય પ્રયોગ કરો.

- હિંમત ન હારવી -
- આક્રોશ ઠાલવવો -
- ઢીલાઢક -

પ્ર- 7. કાવ્ય પંક્તિ પૂર્ણ કરો.

- ' રસે હવે દે ભરી _____
_____ આશિષ માત્ર માંગું '

પ્ર- 8. નીચેના ભાવાર્થ લખો.

- ટલુકે ટલુકે યોગમ રણકી,
સોના જેવી સવાર છે જી .

પ્ર- 9. નીચે આપેલા પ્રશ્નોના જવાબ લખો.

- જગતમાં કઈ આગ ઠારવાથી અમણી થાય છે ?
- દીકરાઓની કઈ બાબતથી શેઠને સંતોષ હતો ?
- આ વાક્ય કોણ બોલે છે : ' જો જો , ભાઈઓ , સુરદાસજી કાગળ વાંચે છે !'
- ભૂખ લાગે ત્યારે સિંહ શું કરતો ?
- શેરડીના ખેતરોમાં કોણ રમી રહ્યું છે ?

પ્ર- 10. નીચે આપેલા પ્રશ્નોના જવાબ લખો.

- લેખક ને બૂટ માટે ઘરમાં કોની - કોની પાસે રજૂઆત કરવી પડતી ?
- સિંહણ ના મોતની સિંહ પર શી અસર થઈ ?
- શેઠે ઘરના કઠોર નો કારભાર કોને સોંપ્યો ?

પ્ર- 11. નીચેના પ્રશ્નોના જવાબ લખો.

- સૌથી નાના દીકરાની વહુએ દાણા જોઈ શું વિચાર્યું ?
- ગાંધીજી એ એક વર્ષમાં બે ધોરણો કરવાનો નિર્ણય કેમ ન છોડ્યો ?

પ્ર- 12. નિબંધ લખો.

- નદી કિનારાની સાંજ

પ્ર- 13. વિચાર વિસ્તાર કરો.

- વિદ્યા પુસ્તકમાં અને પર કબજમાં ધન , ભીડ પડેના કામ નાં એ વિદ્યા એ ધન



प्र - 1. एक दो वाक्य में उत्तर लिखिए !

1. समारोह के मुख्य अतिथि कौन थे ?
2. किसके बेटे ने अपनी माँ से पानी का घड़ा ले लिया ?
3. मृत्युदंड के पहले बालक ने कौन सि बिख मांगी ?
4. चक्की से आटा क्यों नहीं निकल रहा था ?
5. सुरेश को बोटल क्यों नहीं दिखाई दी ?
6. सफ़ेद रंग से दिखाए गए रूट का क्या मतलब है ?
7. हीरलबहन मटका रखकर कहाँ चली गई ?
8. धरती पर चमककर बेटा क्या करेगी ?

प्र - 2. दो तीन वाक्य में उत्तर लिखिए !

1. मनुष्य युग का आह्वान कैसे कर सकता है ?
2. कष्ट होने पर भी मालवजी शिवाजी के पास क्यों नहीं गया ?
3. हमारे देश की व्यवस्था को हम कैसे सुधार सकते हैं ?
4. चौथी स्त्रीने अपने बेटे का परिचय कैसे दिया ?
5. आपको कहाँ कहाँ पर भेद भाव की नीतियाँ दिखाई देती हैं ?

प्र - 3. मातृभाषा में अनुवाद कीजिए !

एक कुते ने एक खरगोश को देख लिया | शिकार के लिए उसके पीछे दौड़ा | खरगोश भी अपने प्राण बचने के लिए तेजी से भागा | कुता बराबर उसका पीछा करता रहा | अंत में उसकी साँस फुल गई | थक - हारकर उसने खरगोश का पीछा करना छोड़ दिया | तभी एक चरवाहे ने उसकी ओर देखा ताना कसा - " एक छोटे - से खरगोश ने दौड़ में तुम्हे पछाड़ दिया |

प्र - 4. अनुलेखन कीजिए !

सारी स्थिति स्पष्ट थी | प्रजापति ने कहा , " देवता ही श्रेष्ठ है | जानते हो क्यों ? इसलिए की इन्होंने सहकार की भावना से काम किया है | खुद भी खाओ और दुसरो को भी खिलाओ | जिओ और जीने दो | वह थी इनकी विशेषता | इन्होंने बुद्धि से काम लिया | सूझ - बुझ दिखाई | वे आमने - सामने बैठ गए | एक - दुसरे के मुँह में लड्डू देते रहे , थोड़ी देर में थाल साफ कर दिया | "

प्र - 5. कहानी : बकरी की चालाकी

अथवा

प्र - 6. पत्र : हम स्वयं कैसे अपने कर्तव्य का पालन करके आदर्श नागरिक बन सकते हैं एवं भारत को आदर्श राष्ट्र बनाने में योगदान दे सकते हैं

इस विषय पर अपने मित्र को पत्र लिखिए !

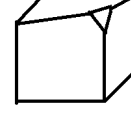
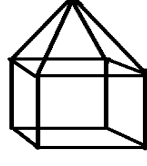
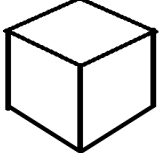
प्र - 7. निबंध लिखिए !

एक सैनिक की आत्मकथा

अथवा

मेरा प्रिय शिक्षक

પ્રશ્ન - 1 કોષ્ટક પૂર્ણ કરો.

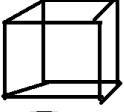


બાજુ

શિરોબિંદુ

પ્રશ્ન - 2 વિભાગ અ માં આપેલ ઘનાકારો ને તેમની સાચી નેટ સાથે જોડો.

વિભાગ અ



વિભાગ બ



જવાબ

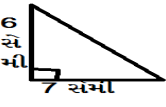
પ્રશ્ન - 3 માગ્યા મુજબ દાખલા ગણો.

1. 35 સેમી વર્તુળની ત્રિજ્યા આપેલ છે. તેના પરથી પરિઘ શોધો. ($\pi = \frac{22}{7}$) લો.

2. 324 ના અવિભાજ્ય અવયવ પાડી ને તેના ગુણાકાર ને ઘાત સ્વરૂપે લખો.

3. $2^4 \times 3^5 \times 6$ ઘાતાંક નો નિયમ ને ઉપયોગ કરીને સાદું રૂપ આપો.

$$3^2 \times 3^2$$

4. $5x + 9(x + 5)$ સાદું રૂપ આપી $x = -3$ માટે કીમત શોધો.5. $x^3 - 3y$ નીચેની પદાવલી ને ટૂંકી ચાર્ટ વડે દર્શાવો.6.  ત્રિકોણ નું ક્ષેત્રફળ શોધો.7. $1\frac{8}{9} + 2\frac{5}{9}$ સરવાળો કરો.8. $\frac{25}{3} \times \left(\frac{-51}{-5}\right)$ ગુણાકાર કરો.9. $\left(\frac{-9}{15}\right) \div \left(\frac{-8}{16}\right)$ ભાગાકાર કરો.

પ્રશ્ન - 4 માગ્યા મુજબ દાખલા ગણો. (કોઈપણ પાંચ)

1. $\frac{4}{3} + \frac{4}{6}$ સરવાળો કરો.2. $(-1\frac{3}{7}) - 2\frac{5}{14}$ બાદબાકી કરો.

3. 44 સેમી પરિઘ ધરાવતા વર્તુળનું ક્ષેત્રફળ શોધો.

4. એક લંબચોરસ જેની બાજુઓના માપ 10 સેમી અને 7 સેમી છે. તેના વિકર્ણ દ્વારા રચાતા દરેક ત્રિકોણ નું ક્ષેત્રફળ શોધો.

5. $5^3 \times 6^3 \times 7^3$ સાદું રૂપ આપો.

$$125 \times 216 \times 343$$

6. $6ab + b^2 - a^2$ માંથી $5a^2 + 7b^2 - 4ab$ બાદબાકી કરો.પ્રશ્ન - 5 ΔPQR માં $PR = 4.5$ સેમી $QR = 8.5$ સેમી અને $m\angle R = 45^\circ$ હોય તેવો ΔPQR રચો અને રચનાના મુદ્દા લખો.

પ્રશ્ન - 6 વ્યાખ્યા લખો.

1 સજાતીય પદો

2 વિજાતીય પદો

પ્રશ્ન - 7 ઘડિયા લખો.

1. 19

2. 23



પ્ર- 1. માગ્યા મુજબ જવાબ લખો.

- વાક્યો પૂર્ણ કરો. a) માછલી ઝાલરો દ્વારા પાણીમાં ઓગળેલો _____
b) ઉરસગુડા બને બાજુએથી _____
c) ઝાલરો રુધિરવાહીનીઓ સાથે _____
- એક શબ્દ માં જવાબ આપો. a) હૃદય અને રુધિરવાહીનીઓમાં ભેગા મળી બનાવેલા તંત્રનું નામ - _____
b) પાતળી દીવાલ અને વાલ્વ ધરાવનાર રુધિરવાહિની - _____
c) હૃદયના ધબકારા સંભળા માટેનું યંત્ર - _____
- કારણ આપો. a) ક્યારેક ભારે કસરત દરમિયાન સ્નાયુ ખેંચાય છે
b) કુદરતમાં વનસ્પતિના બીજ ફેલાવાની પ્રક્રિયા જરૂરી છે
c) 'AMBULANCE' શબ્દ વાહન પર ઉંધો લખવામાં આવે છે.
- તફાવત લખો. a) અલિંગી પ્રજનન અને લિંગી પ્રજનન
b) ધમની અને શિરા

પ્ર- 2. ટૂંકમાં ઉત્તર લખો.

- હૃદય ની આંતરિક રચના જણાવો.
- ગીઝર અને ટેલીવિઝન સેટમાં એક જ ક્યુઝનો ઉપયોગ કરી શકાય ? સમજાવો.
- અંતર્ગોળ લેન્સના ઉપયોગ .

પ્ર- 3. સવિસ્તાર ઉત્તર લખો.

- પરાગનયન એટલે શું ? પરાગનયન ના પ્રકારો વર્ણવો. (આકૃતિ જરૂરી નથી)
- જંગલો જમીનને ધોવાણથી બચાવે છે - સમજાવો.

પ્ર- 4. ગ્લાઝ પ્રિઝમ દ્વારા પ્રકાશના વિવિધ રંગો મેળવતો પ્રયોગ જણાવો. અથવા ઉચ્છવાસમાં કાર્બન ડાયોક્સાઈડની હાજરી ચકાસતો પ્રયોગ વર્ણવો.

પ્ર- 5. મનુષ્યના હૃદયની નામ નિર્દેશવાળી આકૃતિ દોરો.

Worksheet -2

Date :

Subject : Social

Standard : 7-A



M.S. SCHOOL

KG TO 12 (English / Gujarati Medium)

5 - Krishna Nagar, Jamnagar - 6. 0288-2566 916 | 9377 566 916

પ્ર- 1. પ્રશ્નોના જવાબ લખો.

1. ભારતમાં ક્યાં - ક્યાં કુદરતી સરોવરો આવેલા છે ?
2. લાખનો ઉપયોગ જણાવો.
3. ન્યાયની દેવીની આંખે પાટા કેમ બાંધયા છે ?
4. અકબરે યાત્રાવેરો બંધ કરાવ્યો કારણ આપો
5. આપને જાહેર મિલકતનું જતન કરવું જોઈએ

પ્ર- 2. પ્રશ્નોના જવાબ લખો.

1. યુરોપ ખંડની જમીન અને ખેતી વિષે જણાવો
2. ગુરુ નાનકે શો ઉપદેશ આપ્યો ?
3. વનસંરક્ષણ માટેના ઉપાયો લખો.
4. પરિચય આપો : રાણી ઉદયમતી

પ્ર- 3. ટૂંકનોંધ લખો.

1. પૂર્વ ભારતનું લોક જીવન
2. ભારતમાં સિંચાઈ નું મહત્વ
3. રાણા પ્રતાપ

પ્ર- 4. નકશો પૂર્ણ કરો.

1. ગુજરાત
2. છત્તીસગઢ
3. પુલ્કટ સરોવર
4. કાઝીરંગા
5. ગંગા નદી
6. કચ્છનું રણ

